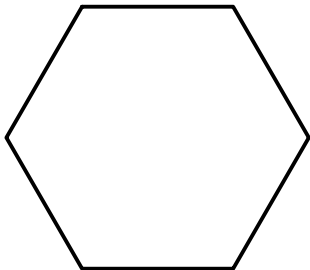
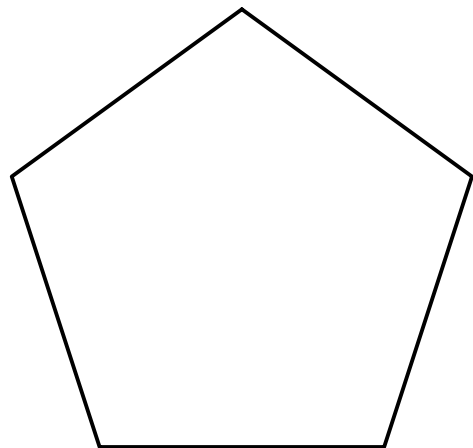


Zeichne ein regelmäßiges Polygon (Vieleck):

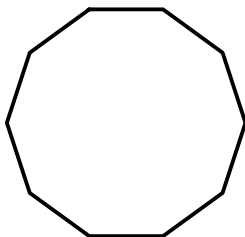
Sechseck,
Umkreisradius 20mm



Fünfeck,
Umkreisradius 32mm




Zehneck,
Inkreisradius 15mm



Rechteck,
l=60mm h=27mm



Quadrat,
Diagonale 28mm



Hinweis: Befehl Rechteck verwenden,
zweiter Punkt @60,27

Polytechnische Schule Klagenfurt		Datum	Name	Klasse K
	Gezeichnet:	13.11.2014	Maier Andreas	
	Geprüft:			
M 1:1	Polygon zeichnen			Zng.-Nr. Ü09-5